

Roll No. :

NMMS(T)

TELUGU

B

Sl No. :

NMMS - NOVEMBER, 2019

**MENTAL ABILITY AND
SCHOLASTIC APTITUDE TEST**

Time : Part - I : 90 Minutes

Max. Marks : 90

Time : Part - II : 90 Minutes

Max. Marks : 90

Instructions to the Candidates

Read the following instructions carefully before you answer the questions. Answers are to be SHADED on a SEPARATE given OMR Answer Sheet with a Black Ball Point Pen. Read the Instructions printed on the OMR Sheet carefully before answering the questions.

1. Please write your Centre Code No. and Roll No. very clearly (only one digit in one block) on the OMR Sheet as given in your admission card. Please see that no block is left unfilled and even Zeros appearing in the Centre Code No. are correctly transferred to the appropriate blocks on the OMR Sheet as shown in the example given in the OMR Sheet. For all subsequent purposes, your Centre Code No. and Roll No. shall remain the same as given on the Admission Card.
2. The Test is in TWO Parts. Part-I consists of 90 questions and Part-II also consists of 90 questions.
3. All questions in Part-I and Part-II carry one mark each.
4. Since all questions are compulsory, do not try to read through the whole question paper before beginning to answer it.
5. Begin with the first question and keep trying one question after another till you finish both the Parts.

6. If you do not know the answer to any question, do not spend much time on it and pass on to next one. If time permits, you can come back to the questions which you have left out in the first instance and try them again.
7. Since the time allotted to the two parts of this question paper is very limited, you should make the best use of it by not spending too much time on any question.
8. A blank page is provided for rough work at the end of each part.
9. Remember, you have to shade answers on a separate OMR sheet provided.
10. Answer to each question is to be indicated by SHADING the circle having the number of the correct alternative in the OMR Sheet from among the ones given for the corresponding question in the booklet.
11. Now turn to the next page and start answering the questions.
12. After the examination, you should hand over the OMR Sheet to the Invigilator of the room.
13. The candidate need not return this Question Paper Booklet and can take it after the completion of the examination. No candidate should leave the examination hall before the end of the examination.

This Booklet consists of 31 Pages for 180 Questions + 03 Pages of Rough Work + 02 Title Pages i.e. Total 36 Pages

ClassResult.in

Part - I : MENTAL ABILITY TEST

Time : 90 Minutes

Max. Marks : 90

Note : SHADE the correct alternatives in the OMR Answer Sheet provided, from amongst the ones given against the corresponding questions in the Question Paper Booklet. For shading the circles, use a Black Ball Point Pen.

సూచనలు: ప్రశ్నలు (1 నుండి 10 వరకు):

క్రింది ప్రశ్నలలో పటము (X)లో 3 భాగములు ఇవ్వబడ్డాయి. 4 వ భాగము "?" గుర్తుతో సూచించబడినది. ప్రక్కన గల 4 పటముల నుండి "X" లో "?" గుర్తునకు సరివడు పటమును ఎంపిక చేయుము.

1. 


(X) (1) (2) (3) (4)

(1) 1 (2) 2 (3) 3 (4) 4

2. 


(X) (1) (2) (3) (4)

(1) 1 (2) 2 (3) 3 (4) 4

3. 

(X) (1) (2) (3) (4)

(1) 1 (2) 2 (3) 3 (4) 4

4. 

(X) (1) (2) (3) (4)

(1) 1 (2) 2 (3) 3 (4) 4



(X)
(1) 1



(2) 2



(3) 3



(4) 4



(4) 4



(X)
(1) 1



(2) 2



(3) 3



(4) 4



(4) 4



(X)
(1) 1



(2) 2



(3) 3



(4) 4



(4) 4



(X)
(1) 1



(2) 2



(3) 3



(4) 4



(4) 4



(X)
(1) 1



(2) 2



(3) 3



(4) 4



(4) 4



(X)
(1) 1



(2) 2



(3) 3



(4) 4



(4) 4

23.



(1)



(2)



(3)



(4)



(5)

(1) 1, 2, 4

(2) 1, 2, 5

(3) 2, 3, 4

(4) 2, 4, 5

24.



(1)



(2)



(3)



(4)



(5)

(1) 1, 2, 3

(2) 1, 2, 4

(3) 1, 3, 5

(4) 1, 4, 5

25.



(1)



(2)



(3)



(4)



(5)

(1) 1, 3, 4

(2) 3, 4, 5

(3) 2, 3, 4

(4) 1, 3, 5

26.



(1)



(2)



(3)



(4)



(5)

(1) 1, 3, 5

(2) 1, 2, 3

(3) 1, 4, 5

(4) 2, 3, 4

27.



(1)



(2)



(3)



(4)



(5)

(1) 1, 2, 3

(2) 2, 3, 4

(3) 3, 4, 5

(4) 2, 4, 5

28.



(1)



(2)



(3)



(4)




(5)

(1) 1, 2, 3

(2) 2, 3, 4


(3) 1, 3, 4

(4) 2, 3, 5

29. 

(1) (2) (3) (4) (5)

(1) 1, 2, 3 (2) 1, 3, 4 (3) 1, 3, 5 (4) 3, 4, 5

30. 

(1) (2) (3) (4) (5)

(1) 1, 2, 3 (2) 2, 3, 4 (3) 1, 2, 4 (4) 2, 4, 5

సూచనలు: ప్రశ్నలు (31 నుండి 40 వరకు):

క్రింద ప్రశ్నలలో నెండు వరుసలలో పటములు ఉన్నాయి. పటములు A, B, C, D లు ప్రాబ్లమ్ పటములు. 1, 2, 3, 4 లు ఆన్సర్ పటములు. పటములు A, B ల మధ్య ఒక నిర్దిష్ట సంబంధం ఉంది. C, D పటముల మధ్య కూడా అట్టి సంబంధమును స్థాపించుటకు Answer Set నుండి తగిన పటమును D స్థానములో ఎంచుక చెయ్యాలి.

31. Problem Figures:

			?
(A)	(B)	(C)	(D)

Answer Figures:

(1)	(2)	(3)	(4)

- (1) 1 (2) 2 (3) 3 (4) 4

32. Problem Figures:

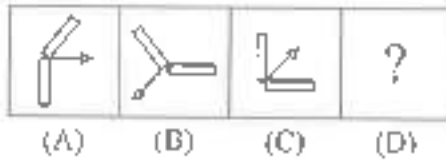
			?
(A)	(B)	(C)	(D)

Answer Figures:

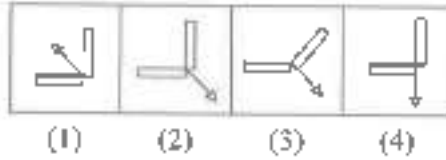
(1)	(2)	(3)	(4)

- (1) 1 (2) 2 (3) 3 (4) 4

36. Problem Figures:



Answer Figures:



(1) 1

(2) 2

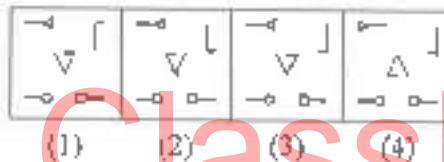
(3) 3

(4) 4

37. Problem Figures:



Answer Figures:



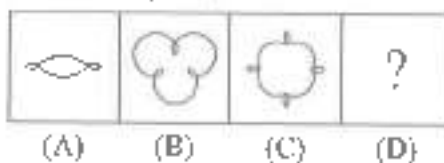
(1) 1

(2) 2

(3) 3

(4) 4

38. Problem Figures:



Answer Figures:



(1) 1

(2) 2

(3) 3

(4) 4

43. 325, 259, 204, 160, 127, 105, ?

- (1) 94 (2) 96 (3) 98 (4) 100

44. 240, ?, 120, 40, 10, 2

- (1) 180 (2) 240 (3) 420 (4) 480

45. 2, 7, 27, 107, 427, ?

- (1) 1262 (2) 1707 (3) 4027 (4) 4207

46. 45, 54, 47, ?, 49, 56, 51, 57, 53

- (1) 48 (2) 50 (3) 55 (4) None

47. 66, 36, 18, ?

- (1) 3 (2) 6 (3) 8 (4) 9

48. 20, 20, 19, 16, 17, 13, 14, 11, ?, ?

- (1) 10, 10 (2) 10, 11 (3) 13, 14 (4) 13, 16

49. 1, 9, 25, 49, 81, ?

- (1) 100 (2) 112 (3) 121 (4) 125

50. 6, 13, 28, 59, ?

- (1) 111 (2) 113 (3) 114 (4) 122

సూచనలు: ప్రశ్నలు (51 నుండి 60 వరకు):

ఈ క్రింద సమీకరణములలో ప్రాథమిక పరిశ్రమల గుర్తులను తప్పగా ఉపయోగించబడినది. అందువలన సమీకరణము పరైవది కాదు. ఇచ్చిన ప్రత్యామ్నాయాల నుండి సరియైన దానిని ఎన్నుకొని, సమీకరణమును సరియైనదిగా మార్చండి.

51. $95 \times 24 = 4 - 1$

- (1) -, +, - (2) =, ×, - (3) +, =, - (4) ÷, +,

52. $8 \div 9 = 9 - 81$

- (1) -, ×, + (2) +, -, ÷ (3) =, ÷, - (4) ×, +, =

53. $40 - 15 = 3 \times 5$

- (1) -, +, ÷ (2) ÷, +, - (3) =, ×, - (4) ×, +, -

54. $728 = 8 + 13 - 7$

- (1) $\div, =, \times$ (2) $\times, +, -$ (3) $-, +, \div$ (4) $+, =, -$

55. $16 = 5 - 7 + 3$

- (1) $-, +, =$ (2) $+, -, \div$ (3) $+, =, \times$ (4) $+, -, -$

56. $12 - 8 + 6 + 576$

- (1) $\times, \times, =$ (2) $=, \times, +$ (3) $+, +, =$ (4) $-, +, \div$

57. $101 \div 14 \div 7 + 3$

- (1) $-, \times, -$ (2) $=, -, +$ (3) $=, +, -$ (4) $=, \times, +$

58. $304 + 4 - 76 + 4$

- (1) $-, \div, +$ (2) $\div, =, \times$ (3) $-, +, -$ (4) $-, -, +$

59. $54 - 5 + 27 + 10$

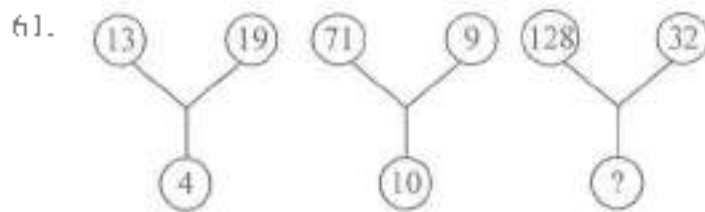
- (1) $=, +, -$ (2) $-, \div, +$ (3) $\times, =, \times$ (4) $\div, +, \times$

60. $30 \div 3 + 9 - 3$

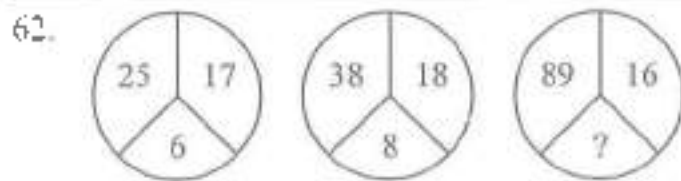
- (1) $=, +, -$ (2) $-, \div, +$ (3) $+, -, \times$ (4) $-, =, \times$

సూచనలు: ప్రశ్నలు (61 నుండి 70 వరకు):

క్రింద ఇవ్వబడిన ప్రశ్నలు ఒక భర్తలమును అనుసరించి రాయబడినవి. ఇందులో లోపించిన సంఖ్య “?” గుర్తుతో సూచించబడినవి. 4 ప్రత్యామ్నాయముల నుండి ఒక పరిష్కార పరిమాణమును గుర్తించుము.

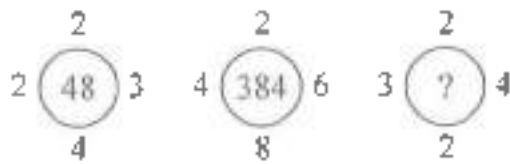


- (1) 10 (2) 15 (3) 20 (4) 25



- (1) 13 (2) 15 (3) 17 (4) 19

63.



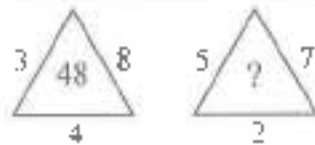
- (1) 42 (2) 44 (3) 46 (4) 48

64.

42	44	38
23	55	28
37	?	39

- (1) 22 (2) 33 (3) 66 (4) 77

65.



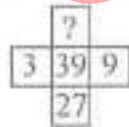
- (1) 27 (2) 35 (3) 54 (4) 64

66.



- (1) 190 (2) 221 (3) 236 (4) 255

67.



- (1) 33 (2) 81 (3) 243 (4) 42

68.



- (1) 10 (2) 12 (3) 13 (4) 15

69.



- (1) 16 (2) 21 (3) 61 (4) 81

70.

51	11	61
64	30	32
35	?	43

- (1) 25 (2) 27 (3) 18 (4) 20

సూచనలు: ప్రశ్నలు (71 నుండి 80 వరకు):

ఈ క్రింది ప్రశ్నలు అంకగణిత సూత్రములపై ఆధారపడియున్నవి. వీటి ప్రశ్న క్రింద ఇవ్వబడిన 4 ప్రత్యామ్నాయ సమాధానాలలో సరియైన దానిని ఎన్నుకోవాలి.

71. $47638 + 635 - 4125 = ?$

- (1) 44418 (2) 41448 (3) 44158 (4) 44148

72. $89765 - 3 - 645 - 1243 + 63 = ?$

- (1) 89743 (2) 87943 (3) 87843 (4) 87743

73. $\frac{x}{\sqrt{28}} = \frac{\sqrt{343}}{x}$ అయితే, అప్పుడు $x =$

- (1) 98 (2) 49 (3) 14 (4) 24

74. $152.435 - 420.5 + 987.52 = ?$

- (1) 709.455 (2) 708.455 (3) 719.455 (4) 718.455

75. $\frac{43^2 - 34^2}{43 - 34} =$

- (1) 67 (2) 87 (3) 77 (4) 107

76. $0.007 \times 0.00009 = ?$

- (1) 0.0063 (2) 0.000063 (3) 0.00000063 (4) 0.0000063

77. $\sqrt{225} \times 5 + 6 \times 7 - 2^3 = ?$

- (1) 119 (2) 109 (3) 99 (4) 129

78. $5.12 \div (0.4 \times 0.8) = ?$

- (1) 6.4 (2) 164 (3) 16 (4) 128

79. $\frac{5^2 + 12^2}{13} = ?$

- (1) 13 (2) 1 (3) 169 (4) 17

80. $3^? + 1 = 244, ? =$

- (1) 5 (2) 4 (3) 3 (4) 2

సూచనలు: ప్రశ్నలు (81 నుండి 90 వరకు):

ఈ క్రింది ప్రశ్నలలో : : గుర్తుకు ముందున్న పదాలు ఒక నియమమును/సంబంధమును కల్గి ఉన్నాయి. అదే విధమైన సంబంధమును : : గుర్తుకు మరోవైపున గల పదాలు కల్గి ఉన్నాయి. లోపించిన పదమును 4 ప్రత్యామ్నాయ సమాధానాల నుండి సరియైన దానిని గుర్తించండి.

81. క్రికెట్ : పరుగులు : : పుట్టాల్ : ?

- (1) రస్య (2) గోల్ఫ్ (3) పెనాల్టీ (4) గోల్కీపర్

82. పలక : బలపం : : పుస్తకం : ?

- (1) కలము (2) రబ్బరు (3) స్కేలు (4) కాగితం

83. ఎముక : అస్థివంజరం : : రక్తము : ?

- (1) కన్ను (2) చెవి (3) నరము (4) చర్మము

84. హాస్పిటల్ : డాక్టర్ : : స్కూలు : ?

- (1) పాఠము (2) టీచరు (3) నల్లబల్ల (4) పుస్తకం

85. తాళంకప్పు : తాళంచెవి : : కుర్చీ : ?

- (1) కప్పు (2) గ్లాసు (3) ప్లేటు (4) టేబుల్

86. వృక్షము : వృక్షపరిధి : : చతురస్రము : ?

- (1) యిట్టుకొలత (2) వైశాల్యం (3) భుజము (4) పొడవు

87. వీడియో : కాసెట్ : : కంప్యూటర్ : ?

- (1) కీల్ (2) రికార్డింగ్ (3) పాటలు (4) ప్లాఫీ

88. ధర్మామీటర్ : ఉష్ణగ్రత : : హైగ్రోమీటర్ : ?

- (1) పీడనం (2) ఆర్ద్రత (3) సాంద్రత (4) సాపేక్ష సాంద్రత

89. బస్ : డ్రైవర్ : : విమానము : ?

- (1) పైలెట్ (2) ఆపరేటర్ (3) గమనించేవాడు (4) ఎరియలు కాదు

90. జెల్లం : తీపి : : మిర్చి : ?

- (1) పులుపు (2) ఉప్పు (3) కారం (4) చేదు

SPACE FOR ROUGH WORK

ClassResult.in

SPACE FOR ROUGH WORK

ClassResult.in

Part - II : SCHOLASTIC APTITUDE TEST

Time : 90 Minutes

Max. Marks : 90

Note :

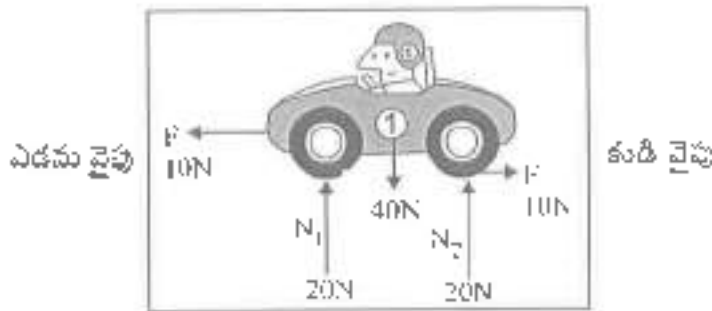
i) Subject, Question No. and Marks allotted:

Sl. No.	Subject	Question No.	Marks
1.	Physics	91 to 102	12
2.	Chemistry	103 to 113	11
3.	Biology	114 to 125	12
4.	Mathematics	126 to 145	20
5.	History	146 to 155	10
6.	Geography	156 to 165	10
7.	Political Science	166 to 175	10
8.	Economics	176 to 180	05

ii) **SHADE** the circle having the correct alternatives in the OMR Answer Sheet provided, from amongst the ones given against the corresponding questions in the Question Paper Booklet. For shading the circles, use a **Black Ball Point Pen**.

PHYSICS

91.



కారు చలనం ఏ దిశలో ఉండును

- (1) కుడి వైపు (2) ఎడమ వైపు (3) పైకి (4) కదలదు

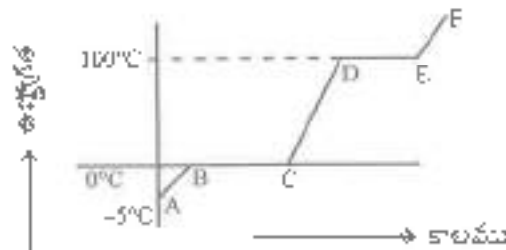
92. మిథ్యా ప్రతిబింబాలను మాత్రమే ఏర్పరచగల దర్పణములు

- (1) సమతల దర్పణము, కుంభాకార దర్పణము
 (2) పుటాకార దర్పణము, సమతల దర్పణము
 (3) కుంభాకార దర్పణము, పుటాకార దర్పణము
 (4) పుటాకార దర్పణము మాత్రమే

93. సిక్స్ గరిష్ఠ, కనిష్ఠ ఉష్ణమాపకంలో వాడుద్రవము

- (a) నీరు (b) సాదరసము (c) ఆల్కహాల్ (d) నాలి
 (1) a మరియు b (2) b మరియు c
 (3) c మరియు d (4) a మరియు d

94.



-5°C వద్ద మున్ను మంచును, భాష్యముగా మారే వరకూ వేడి చేయునపుడు సమోచు చేసిన రీడింగులను పై గ్రాఫునందు నమోదు చేయటం జరిగింది. దత్త గ్రాఫులోని ఏ భాగాలు మడుగుటను, బాష్పీభవన ప్రక్రియలను సూచిస్తాయి

- (1) AB, BC (2) BC, DE (3) CD, DE (4) పైవేవీ కావు

95. X : ఒక బస్సు వేగము 72 కిమీ/గం.
 Y : ఒక కారు వేగము 45 మీ/గంకను
 Z : ఒక వ్యాను 60 కి.మీ. దూరాన్ని 40 నిమిషాలలో ప్రయాణించింది.
 X బస్సు వేగము, Y కారు వేగము, Z వ్యాను వేగము అయిన ...

- (1) $X < Y < Z$ (2) $X > Y < Z$
 (3) $X > Y > Z$ (4) $X < Y > Z$

96. జతపరుచుము:

- | | |
|--|---------------------------|
| i) వీలింగ్ ఫ్యాన్ రెక్కల చలనము | a) చోలన చలనము |
| ii) వింటి నుండి వదిలిన బాణము | b) భ్రమణ చలనము |
| iii) భూమి సూర్యుని చుట్టూ తిరగడం | c) స్థానాంతర చలనము |
| iv) బట్టలు కుట్టే మిషనులోని సూది చలనము | d) భ్రమణ, స్థానాంతర చలనము |

- (1) i - a ii - b iii - c iv - d
 (2) i - a ii - c iii - b iv - d
 (3) i - b ii - c iii - d iv - a
 (4) i - b ii - a iii - d iv - c

97. భావన (A) : ఇళ్ళలో బల్బులను సమాంతరంగా కలుపుతారు.

కారణం (R) : బల్బులను సమాంతరంగా కలిపిన కాంతిపంతంగా వెలుగుతాయి.

- (1) (A) మరియు (R) లు సరియైనవి
 (2) (A) మరియు (R) లు సరియైనవి కావు
 (3) (A) సరియైనది, (R) సరియైనది కాదు
 (4) (A) సరియైనది కాదు, (R) సరియైనది

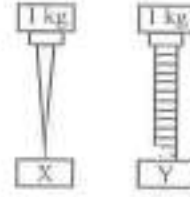
98. జతపరుచుము:

- | | |
|---------------|-------------------------------------|
| i) ఆర్డ్రత | a) రెయివోగేజ్ |
| ii) వర్షపాతము | b) సిక్స్ గరిఫ్, కనిష్ట ఛార్జామీటరు |
| iii) వనవేగము | c) హైడ్రోమీటరు |
| iv) ఉష్ణగ్రత | d) అనిమోమీటరు |

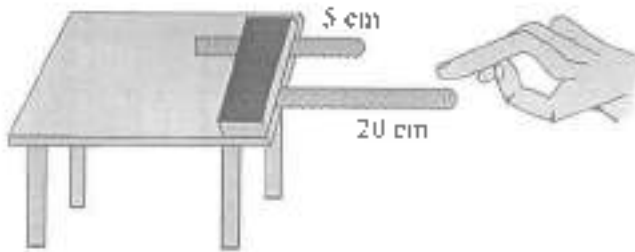
- (1) i - a ii - b iii - d iv - c
 (2) i - c ii - b iii - a iv - d
 (3) i - c ii - a iii - d iv - b
 (4) i - d ii - c iii - b iv - a

99. ఇద్దిన పటములో ఒకే పదార్థం, ఒకే పరిమాణంలో చేయబడిన రెండు వస్తువులు X, Y లు. X పై 1 కేజీ భారంగల ఇనుపమేకు, Y పై 1 కేజీ భారంగల ఇనుప స్ప్రూ ఉంచబడ్డాయి. దేనిపై దీడనం అధికంగా ఉంటుంది.

- (1) X పై
- (2) Y పై
- (3) X, Y లపై సమానము
- (4) దత్తాలకం నరిపాదు



100.



Vibrations of hack-saw blades

X అనునది గాతిలో 20 సెం.మీ. పొడవుగల హేకసా బ్లేడును కంపింప చేసినపుడు ఉత్పత్తి అయిన ధ్వని పిచ్ Y అనునది గాతిలో 5 సెం.మీ. పొడవుగల హేకసా బ్లేడును కంపింప చేసినపుడు ఉత్పత్తి అయిన ధ్వని పిచ్ అయిన

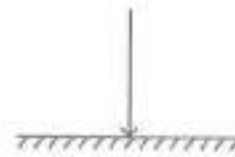
- (1) $X > Y$
- (2) $X < Y$
- (3) $X = Y$
- (4) ధ్వని పిచ్ హేకసా బ్లేడ్ పొడవుపై ఆధారపడి ఉండదు

101. ఘర్షణకు సంబంధించి క్రింది వానిలో సరియైనది కాదు

- (1) ఘర్షణబలం వస్తువు స్పృశ్య వైశాల్యంపై ఆధారపడుతుంది
- (2) ఘర్షణబలం అభిలంబ బలంపై ఆధారపడుతుంది
- (3) ఘర్షణ రెండు తలాల మధ్య సాపేక్ష చలనాన్ని వ్యతిరేకిస్తుంది.
- (4) ఘర్షణబలం ఉపరితల స్వభావంపై ఆధారపడి ఉంటుంది

102. తలానికి లంబంగా కాంతి కిరణం పతనం చెందినపుడు, పరావర్తన కోణము

- (1) 90°
- (2) 180°
- (3) 0°
- (4) 45°



CHEMISTRY


103. ఈ క్రింది వానిలో సరికాని వాక్యాన్ని గుర్తించండి

- (1) అల్యూమినియం, రాగి మిశ్రమాన్ని నాణెముల తయారీలో వాడతారు
- (2) బంగారము, రాగి మిశ్రమాన్ని ఆభరణాల తయారీలో వాడతారు
- (3) ఇనుము, కర్బనముల మిశ్రమాన్ని ఉక్కు తయారీలో వాడతారు
- (4) అల్యూమినియం, కర్బనముల మిశ్రమాన్ని నిగ్రహాల తయారీలో వాడతారు

104. ఈ దిగువవానిలో వేసిని విటిలో కలిపి చల్లడం ద్వారా కోసిన కాయగూరలపై ఏర్పడే గోధుమరంగును సోధించవచ్చు

- | | | | |
|-----------------------|-----------------|-------------|-------------|
| a) వినిగర్ | b) నిమ్మరసం | | |
| c) అస్సోర్నిక్ ఆమ్లము | d) నత్రీకామ్లము | | |
| (1) a, b, c | (2) b, c, d | (3) a, c, d | (4) a, b, d |

105. జతపరచుము:

- | | |
|--|-------------------|
| i)  | a) ఉతుకుట |
| ii)  | b) ఫ్లీచ్ చేయుట |
| iii)  | c) ఇస్త్రీ చేయుట |
| iv)  | d) ఫ్లీచ్ చేయరాదు |

- (1) i - a ii - b iii - c iv - d
- (2) i - b ii - c iii - a iv - d
- (3) i - c ii - e iii - d iv - a
- (4) i - a ii - b iii - d iv - c

ClassResult.in

106. క్రింది వాక్యాలలో సరియైన వానిని గుర్తించండి

- a) మీ వంటగదిలోని సిలెండర్లో గాలి ద్రవస్థితిలో ఉంటుంది. బయటకు వచ్చినప్పుడు వాయువుగా మారుతుంది. ఇది ఒక రసాయన మార్పు.
 - b) గ్యాస్ సిలెండర్ నుండి వచ్చిన వాయువును కార్బినపుడు మంచుతుంది. ఇది ఒక రసాయన మార్పు.
 - c) అంతువుల నుండి వెలువడిన వ్యర్థపదార్థాలను బాక్టీరియా జీర్ణం చేసుకొని వాయువులను ఉత్పత్తి చేస్తాయి. ఇది ఒక భౌతిక మార్పు.
 - d) ఈ వాయువులను ఇంధనాలుగా ఉపయోగిస్తాం. ఇది ఒక రసాయన మార్పు.
- (1) a, b, d (2) a, b, c (3) b, c, d (4) a, c, d

107. గ్యాస్టిక్ నమస్కలో బాధపడేవారికి డాక్టర్లు సూచించే ఏంటాసిడ్ టాబ్లెట్లలో ఉండేది

- | | | | |
|----------------------------|-----------------------------|---------------|---------------|
| a) మెగ్నీషియం హైడ్రాక్సైడ్ | b) సోడియం ఎసిటేట్ | | |
| c) వినిగర్ | d) అల్యూమినియం హైడ్రాక్సైడ్ | | |
| (1) a మరియు b | (2) b మరియు c | (3) c మరియు d | (4) a మరియు d |

108. ఈ క్రింది వానిలో రిస్ట్రెయిన్గ్ చేయలేనిది

- (1) PET (2) HDPE (3) PS (4) LDPE

109. జతపరుచుము:

- | | |
|-----------------------------------|-----------------------------|
| i) గ్రీణ, మానె మరకలను తొలగించుటకు | a) అల్యూమినియం హైడ్రాక్సైడ్ |
| ii) మంటను ఆర్పుటకు | b) ఆక్సాలికామ్ము |
| iii) సిరా మరకలను తొలగించుటకు | c) అమోనియం హైడ్రాక్సైడ్ |
| iv) శీతల పానీయాలు | d) కార్బోనికామ్ము |
- (1) i - a ii - b iii - c iv - d
 (2) i - b ii - a iii - d iv - c
 (3) i - c ii - a iii - b iv - d
 (4) i - a ii - b iii - d iv - c

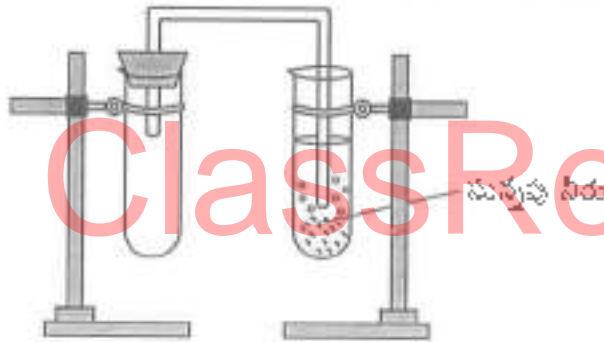
110.

	మిత్తెల్ ఆరెంజ్	ఫినాప్తలీన్	పసుపు ఏరు
నిమ్మరసము	ఎరుపు	రంగులేదు	Z
డిటర్జెంటు నబ్బునీరు	పసుపు	Y	ఎరుపు
స్వేదన జలము	X	రంగులేదు	పసుపు

X, Y, Z ల రంగులు వరుసగా

- (1) ఎరుపు, రంగులేదు, ఎరుపు (2) పసుపు, రంగులేదు, పింక్
 (3) పసుపు, పింక్, పసుపు (4) ఎరుపు, పింక్, ఎరుపు

111.



పై ప్రయోగంలో _____ వాయువు వెలువడుట వలన సున్నపులేట పాలవలె తెల్లగా మారినది. ఆ తెల్లని పాలవలె ఉన్న పదార్థములో ఉండునది _____

- (1) ఆక్సిజన్, కార్బోనామ్ ఆక్సైడ్ (2) హైడ్రోజన్, కార్బోనామ్ కార్బోనేట్
 (3) కార్బన్ డయాక్సైడ్, కార్బోనామ్ కార్బోనేట్ (4) ఆక్సిజన్, కార్బోనామ్ కార్బోనేట్

112. P : థర్మోస్టిక్ ను వేడిచేసినపుడు వ్యుడువుగా మారును

Q : థర్మోస్టిక్ స్థాస్టిక్లు స్థిరమైన నిర్మాణాలను కలిగి ఉంటాయి

- (1) P సరియైనది, Q సరియైనది కాదు (2) P మరియు Q సరియైనవి కావు
 (3) P సరియైనది కాదు, Q సరియైనది (4) P సరియైనది, Q సరియైనది

113. కాపర్, ఐరన్, జింక్ లోహాల చర్యాశీలత ఆధారంగా వానిని అవరోహణక్రమములో అమర్చుము

- (1) జింక్, ఐరన్, కాపర్ (2) ఐరన్, జింక్, కాపర్
 (3) కాపర్, జింక్, ఐరన్ (4) జింక్, కాపర్, ఐరన్

BIOLOGY

114. పత్రంలోని కోరకాల నుంచి క్రోత్త మొక్కను ఉత్పత్తి చేసే మొక్క ఏది?

- (1) తిట్టి (2) ఛాలియా (3) స్ట్రాబెరీ (4) బిగ్నోనియా

115. క్రింది వాటిని జతపరచండి:

- | | |
|-----------------------|---------------|
| i) జలేబి | a) శిలీంధ్రం |
| ii) మురికినీటి కుడ్డి | b) మగ్గం |
| iii) హర్షన్ | c) హాస్టారియా |
| iv) వరాన్జుజీవి మొక్క | d) ఈస్ట్ |
| v) సెయ్స్సోరా | e) బాక్టీరియా |

- (1) i - d ii - e iii - c iv - b v - a
 (2) i - e ii - b iii - d iv - a v - c
 (3) i - a ii - c iii - b iv - d v - e
 (4) i - d ii - e iii - b iv - e v - a

116. సరైన వాక్యాలను గుర్తించండి.

- a) మొక్కలలో పత్ర రంధ్రాలు మాత్రమే వాయు వినిమయానికి తోడ్పడతాయి.
 b) పత్రజని తక్కువగా ఉన్న నేలల్లో మాత్రమే కీటకాహారి మొక్కలు పెరుగుతాయి.

- (1) a ఒప్పు, b బస్సు (2) a తప్పు, b ఒప్పు
 (3) a ఒప్పు, b తప్పు (4) a తప్పు, b తప్పు

117. "పాచ్" అనునది

- (1) ఉత్తర భారతదేశంలో లభించే ఒక రకమైన పట్టు
 (2) పశ్చిమ భారతదేశంలో లభించే ఒక రకమైన పట్టు
 (3) తూర్పు భారతదేశంలో లభించే ఒక రకమైన పట్టు
 (4) దక్షిణ భారతదేశంలో లభించే ఒక రకమైన పట్టు

118. "పెన్సిల్ వల్" అనే ద్రావణాన్ని ఉపయోగించి ఈ కణాంగాన్ని గుర్తించవచ్చు.

- (1) కేంద్రకాంశం (2) కణ కవచం (3) కేంద్రకం (4) కేంద్రక డ్రవ్యం

119. ఆహారములోని అంశాల నిర్ధారణ పరీక్షలో కాపర్ సల్ఫేట్ ద్రావణాన్ని ఉపయోగించి దోసే పరీక్షలో ఏర్పడే ముదురు నీలిరంగు పదార్థం కేటిని నిర్ధారిస్తుంది?

- (1) క్రోమ్యు పదార్థాలు (2) కార్బోహైడ్రేట్లు (3) ప్రోటీన్లు (4) విటమిన్లు

120. క్రింది వాటిలో అగ్నిమాపక పదార్థాల తయారీలో వాడే క్షారం ఏది?

- (1) అల్యూమినియం హైడ్రాక్సైడ్ (2) అమ్మోనియం హైడ్రాక్సైడ్
 (3) కాల్షియం హైడ్రాక్సైడ్ (4) పొటాషియం హైడ్రాక్సైడ్

121. క్రింది వాటిని జతపరచండి:

- | | |
|-----------------------------|--------------------------------|
| i) వై ఆండ్ రై | a) ఉద్యోగాలు |
| ii) బాసిల్లస్ తురెంజెనిసిస్ | b) స్కాటన్ |
| iii) జాన్ స్వామ్మర్‌డామ్ | c) జమదాని |
| iv) ఎడ్రినాటిన్ | d) సూక్ష్మజీవుల పరిశీలన, చర్లప |
| v) మైక్రో ఆర్థోపాడా | e) బయోపెస్టిసైడ్ |
- (1) i - d ii - e iii - b iv - a v - c
 (2) i - c ii - e iii - d iv - a v - b
 (3) i - e ii - d iii - c iv - a v - b
 (4) i - d ii - c iii - a iv - e v - b

122. సూర్యుని నుండి వెలువడే శక్తిలో ఎంత శాతం భూమిని వేడి చేయడానికి, వీటిని ఆవిరి చేయడానికి ఉపయోగపడుతుంది.

- (1) 35% (2) 8% (3) 80-85% (4) 50%

123. క్రింది వాటిలో సరికాని వాక్యం ఏది?

- (1) ఎర్ర సక్కు, సింహం భారతదేశంలో అంతరించే ప్రమాదంలో ఉన్న జీవులు
 (2) చక్కెనె జాతి రెక్కలు లేని ఆకు మిడత రట్ కాలంలో మాత్రమే కనిపిస్తుంది
 (3) స్ట్రీలలో ఋతుచక్రం 45-50 సంవత్సరాల వయసులో ఆగిపోతుంది
 (4) పట్టుపురుగులకు కలిగే వ్యధులను నియంత్రించే పద్ధతులను లూయిపాశ్చర్ కనుగొన్నారు

124.



పై దిశ్రంలో ఇవ్వబడిన తీవి ఒక రకమైన

- (1) బ్యాక్టీరియం (2) ఫోటోజోవా (3) శిలీంధ్రం (4) కైవలం

125. సంయుక్త బీజం '○', పితృనం '△', క్రొత్త మొక్కలు '□' అయితే ఇవి ఏర్పడే క్రమాన్ని తెల్పండి

- (1)  (2)  (3)  (4) 

MATHEMATICS

$$126. \sqrt{\frac{0.85 \times (0.105 + 0.024 - 0.008)}{0.022 \times 0.25 \times 1.7}}$$

- (1) $\sqrt{1.1}$ (2) 11 (3) $\sqrt{11}$ (4) $\sqrt{0.11}$

127. ఇద్దరు అన్నదమ్ముల ప్రస్తుత వయస్సుల నిష్పత్తి 1:2 మరియు 5 సంవత్సరముల క్రితం వారి వయస్సుల నిష్పత్తి 1:3 అయిన, 5 సంవత్సరముల తరువాత వారి వయస్సుల నిష్పత్తి

- (1) 1:4 (2) 2:3 (3) 3:5 (4) 5:6

128. 20% మరియు 5%గా వరుసగా అవ్వబడిన రుసుము ఒకేసారి ఇచ్చే ఎంత రుసుము శాతమునకు సమానము?

- (1) 25% (2) 24% (3) 23% (4) 26%

129. A, B లు ఏదైనా రెండు సంఖ్యలు. A లో 5% మరియు B లో 4% ల మొత్తము, A లో 6% మరియు

B లో 8% ల మొత్తములో $\frac{2}{3}$ వ వంతు ఉయిన A:B =

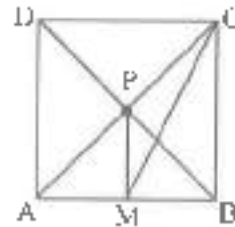
- (1) 2:3 (2) 1:1 (3) 3:4 (4) 4:3

$$130. y + \frac{1}{y} = -2 \text{ అయిన } y^{50} - \frac{1}{y^{50}} =$$

- (1) 0 (2) -1 (3) 2 (4) 250

131. ప్రక్క పటములో ABCD ఒక చతురస్రము దాని భుజము పొడవు 8 సెం.మీ. మరియు PM \perp AB అయిన MC పొడవు =

- (1) $5\sqrt{5}$ సెం.మీ.
 (2) $6\sqrt{5}$ సెం.మీ.
 (3) $4\sqrt{5}$ సెం.మీ.
 (4) $7\sqrt{5}$ సెం.మీ.



$$132. \frac{Px}{(b-c)} = \frac{Qy}{(c-a)} = \frac{Rz}{(a-b)} \text{ అయిన, } Pbx + Qcy + Rcz =$$

- (1) P+Q+R (2) x+y+z (3) a+b+c (4) 0

133. ప్రవచనము (A) : $(1024)^{0.4} = 16$

ప్రవచనము (B) : $(16)^{1.25} = 32$

- (1) (A) మరియు (B) రెండూ ప్రవచనాలు సరియైనవి
- (2) (A) మరియు (B) రెండూ ప్రవచనాలు సరియైనవి కావు
- (3) ప్రవచనము (A) సరి అయినది, ప్రవచనము (B) పరికాదు
- (4) ప్రవచనము (A) సరికాదు, ప్రవచనము (B) సరియైనది

134. $x = (-1)^1 + (-1)^2 + \dots + (-1)^{2019}$ మరియు

$y = (-1)^1 - (-1)^2 + \dots + (-1)^{2015}$ అయిన $x - y =$

- (1) 2019 (2) 2018 (3) 0 (4) 1014

135. $\frac{a}{b} = \frac{x}{y} = \frac{p}{q}$ అయిన $\frac{6a+9x+2p}{6b+9y+2q} =$

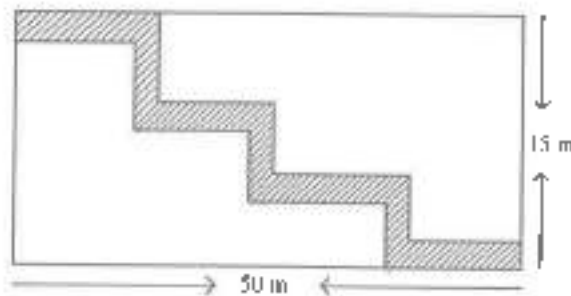
- (1) $\frac{a}{b}$ (2) $\frac{x}{y}$ (3) $\frac{p}{q}$ (4) పైవి అన్నియూ

136. $7^a = 2401$, a, b లు ధన పూర్ణ సంఖ్యలు మరియు $a \neq 1$ అయిన ఈ క్రింది వానిలో సరియైనవి

- I) $a = b$
- II) $a > b$
- III) $a < b$

- (1) I లేదా III (2) II లేదా III (3) I లేదా II (4) I మాత్రమే

137. క్రింది పటంలోని దీర్ఘచతురస్ర ప్రాంతములో 2 మీ. వెడల్పు గల బాటను చదును చేయుటకు ద.మీ. 18 రూ. 100/- చొప్పున ఎంత ఖర్చుగును?



- (1) ₹ 12600 (2) ₹ 16200 (3) ₹ 13000 (4) ₹ 12000

138. $\frac{2x-5}{3} > \frac{3x+3}{4}$ కు ఈ క్రింది వానిలో సాధన.

- (1) $x = -5$ (2) $x = -2$
 (3) (1) మరియు (2) (4) (1) మరియు (2) కారు

139. a, b మరియు c ల సగటు, $b, 2c$ మరియు d ల సగటుకు సమానము అయిన ఈ క్రింది వానిలో సరియైనది

- (1) $a = b = c$ (2) $b = c = d$ (3) $b = c$ (4) $a = c + d$

140. $a = \frac{2x-1}{3}, b = \frac{7-3x}{4}$ మరియు $\frac{a-b}{5} = 1$ అయిన, $x =$

- (1) 2 (2) 4 (3) 5 (4) 3

141. $3^{2^{10^{10}}} + 8^{3^{10^{10}}}$ విలువ =

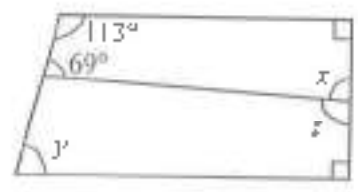
- (1) 512 (2) 521 (3) 125 (4) 215

142. $(a^{x+y})^{x-y} (a^{y+z})^{y-z} (a^{z+x})^{z-x}$ విలువలను కనుగొనుటలో గల సోపానాలను వరుస క్రమములో అమర్చుము

- a) $a^{(x+y)(x-y)} a^{(y+z)(y-z)} a^{(z+x)(z-x)}$ b) $a^0 = 1$
 c) $a^{x^2-y^2} a^{y^2-z^2} a^{z^2-x^2}$ d) $a^{x^2-y^2+y^2-z^2+z^2-x^2}$
 (1) a, d, c, b (2) a, c, b, d (3) a, c, d, b (4) a, d, b, c

143. ప్రక్క చిత్రములో x, y మరియు z ల విలువలు

- (1) $x = 88^\circ, y = 67^\circ, z = 92^\circ$
 (2) $x = 92^\circ, y = 88^\circ, z = 67^\circ$
 (3) $x = 67^\circ, y = 92^\circ, z = 88^\circ$
 (4) $x = 88^\circ, y = 92^\circ, z = 67^\circ$



144. ఒక త్రిభుజము యొక్క ప్రతి భుజాన్ని 10 సెం.మీ. పెంచగా ఏర్పడు త్రిభుజము యొక్క చుట్టుకొలత, దత్త త్రిభుజము యొక్క చుట్టుకొలతల నిష్పత్తి 5:4 అయిన దత్త త్రిభుజము చుట్టుకొలత

- (1) 110 సెం.మీ. (2) 120 సెం.మీ. (3) 100 సెం.మీ. (4) 90 సెం.మీ.

145. $\sqrt{\frac{3^6 \times 4^3 \times 2^9}{8^6 \times 2^6}} =$

- (1) $1\frac{1}{8}$ (2) $\frac{3}{8}$ (3) $1\frac{1}{3}$ (4) $\frac{3}{4}$

HISTORY

146. ప్లాసీ యుద్ధం ఎవరి మధ్య జరిగినది
 (1) బీష్వ సుల్తాన్ మరియు బ్రిటిష్వారికి మధ్య (2) ముజఫర్ జంగ్ మరియు బ్రిటిష్వారికి మధ్య
 (3) సిరాజుద్దౌలా మరియు బ్రిటిష్వారికి మధ్య (4) మొఘల్ చక్రవర్తికి మరియు బ్రిటిష్వారికి మధ్య

147. రెండవ ప్రపంచ యుద్ధం ఎప్పుడు జరిగింది
 (1) 1914 సం॥లో (2) 1924 సం॥లో (3) 1939 సం॥లో (4) 1929 సం॥లో

148. అవ్వబడిన మ్యాప్ అంధ్రప్రదేశ్ లోని ఏ కోస్తా జిల్లాది

- (1) గుంటూరు
 (2) కృష్ణా
 (3) ప్రకాశం
 (4) విశాఖపట్టణం



149. జతపరచుము:

- | | |
|-----------------|-------------------------|
| i) మన్సుఖదార్ | a) వంశపారంపర్య అధిపతి |
| ii) ఆళ్వార్ | b) రెవెన్యూ అసైన్ మెంట్ |
| iii) జాగీర్దార్ | c) సుల్తాన్-ఇ-కుల్ |
| iv) జమీందార్ | d) శ్రేణి |

- (1) i - d ii - c iii - b iv - a
 (2) i - a ii - b iii - d iv - c
 (3) i - a ii - d iii - c iv - b
 (4) i - b ii - c iii - d iv - a

150. తానవాల్ లోని ఏ భాగాన్ని ప్రశస్తి అంటారు

- (1) మొదటి భాగం (2) ఆర్థ భాగం
 (3) మూడవ భాగం (4) చివరి భాగం

151. కిలాట్ అల్ హింద్ అనే ఆరవిక్ గ్రంథము వ్రాసినది

- (1) ఆల్-బెరూనీ (2) పేయిజ్
 (3) మార్కో పోలో (4) అబ్దుల్ రజాక్

152. క్రీ.శ. 1190 సం॥లో దీర్ఘ కేంద్రంగా శ్రోత్త రాజ్యాన్ని స్థాపించినది

- (1) తుగ్లక్ లు (2) సుల్తాన్ లు (3) మొఘల్ లు (4) లోధీలు

153. క్రీ.శ్చందేవరాయలు యొక్క పరిపాలనా కాలము

- (1) క్రీ.శ. 1336 - క్రీ.శ. 1357 (2) క్రీ.శ. 1529 - క్రీ.శ. 1542
 (3) క్రీ.శ. 1585 - క్రీ.శ. 1614 (4) క్రీ.శ. 1509 - క్రీ.శ. 1529

154. మొట్టమొదటి మొఘల్ చక్రవర్తి ఎవరు?

- (1) బాబర్ (2) ఆక్బర్ (3) హుమాయున్ (4) షాజహాన్

155. కుతుబుమిసార్ ను నిర్మించినది ఎవరు?

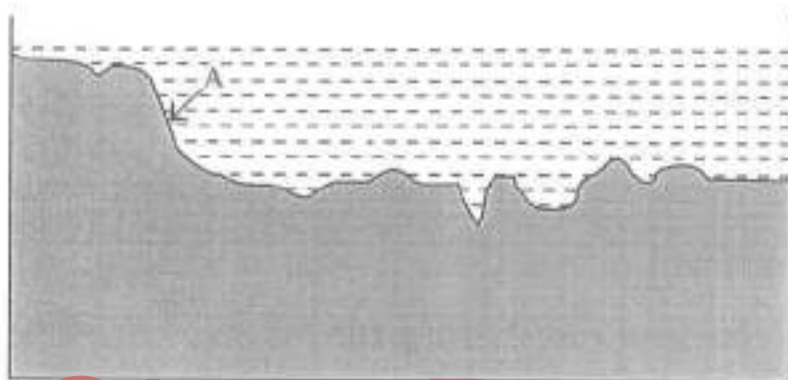
- (1) కుతుబుద్దీన్ ఐబక్ (2) బాబర్
 (3) హుమాయున్ (4) ఆక్బర్

GEOGRAPHY

156. ఎస్కిమోలుగా పిలువబడే వారిలో రెండు ప్రధాన బృందాలు ఉన్నాయి. అవి ఇన్క్విలిట్, యూపిక్. వాళ్ళ భాషలో 'ఇన్క్విలిట్' అనగా

- A) ప్రజలు
 - B) మూల వాసులు
 - C) మంచు బూట్ల వ్యక్తి
- | | |
|---------------|-----------------------|
| (1) A మాత్రమే | (2) B మాత్రమే |
| (3) C మాత్రమే | (4) A మరియు B మాత్రమే |

157.



సముద్రపు ఎత్తు పల్లాలను చూపే చిత్రం

పై చిత్రంలోని 'A' దేనిని సూచిస్తుంది.

- | | |
|-------------------|---------------------------|
| (1) అగారం | (2) లోలైన సముద్ర మైదానాలు |
| (3) ఖండతీరపు అంచు | (4) ఖండతీరపు వాలు |

158. భూమి ఉపరితలాన్ని సూర్యుని కిరణాలు తాకే కోణాన్ని ఇలా పిలుస్తారు

- | | |
|---------------|----------------|
| (1) సౌరపుటం | (2) సౌరవికిరణం |
| (3) భూవికిరణం | (4) పతనకోణం |

159. భారతదేశ సర్వేక్షణ శాఖ జారీ చేసే 'టోపోషీట్స్'లో సంప్రదాయ సంకేతాలను ఉపయోగిస్తారు.

"" ఈ సంప్రదాయ సంకేతం దేనిని సూచిస్తుంది.

- | | |
|------------|---------------------|
| (1) గుడిసె | (2) నిర్ణనకోట |
| (3) చెరువు | (4) బీటలు వారిన నేల |

160. దేవదారు చెట్ల అడవులు సాధారణంగా ఈ ప్రాంతంలో ఉంటాయి

- | | |
|--------------------------|---------------|
| (1) భూమిద్రవ్యభా ప్రాంతం | (2) హిమాలయాలు |
| (3) కోస్తా ఆంధ్ర | (4) రామలసీమ |

161. ఆఫీసాలోనే అత్యంత ఎత్తైన వర్షత ఇఖరం కలిమంజారో _____ లో కలదు

- (1) టాంజానియా (2) ఈజిప్టు
(3) ఇథియోపియా (4) నైజీరియా

162. క్రింద ఇవ్వబడిన నదులను 'ఉత్తరం' నుండి 'దక్షిణం' వికట సరైన వరుసక్రమంలో ఆమర్చండి.

- A) నాగావళి B) వంశధార C) గోదావరి D) కృష్ణా
(1) A, B, C, D (2) B, A, C, D
(3) A, B, D, C (4) B, A, D, C

163. A) ఇది మెరిసే ఖనిజం B) విద్యుత్తు పరిశ్రమలో దీనిని ఉపయోగిస్తారు
C) ఇది సన్నటి పొరలలో బిళ్ళముపుతుంది D) ఇది విద్యుత్ నిరోధకం
పై వాక్యాలు ఏ ఖనిజానికి సంబంధించినవి
(1) బాక్సైట్ (2) ఆభ్రకం (3) ఆస్ట్రెస్టాస్ (4) ఫెల్ట్ స్పార్

164. క్రింది వానిని జతపరచుము:

- i) జూన్ 21 a) భూమధ్యరేఖ మీద సూర్యుడు
ii) మార్చి 21 b) భూమధ్యరేఖ మీద సూర్యుడు
iii) డిసెంబరు 22 c) కర్కటరేఖ మీద సూర్యుడు
iv) సెప్టెంబరు 23 d) మకరరేఖ మీద సూర్యుడు
(1) i - c ii - a iii - d iv - b
(2) i - a ii - c iii - d iv - b
(3) i - a ii - b iii - d iv - c
(4) i - c ii - b iii - a iv - d

165. మిస్టర్ రవి ఆంధ్రప్రదేశ్ యొక్క సరిహద్దును తెలుసుకోవాలని అనుకుంటున్నాడు. క్రింది వానిలో ఏ పటం ఆతనికి ఉపయోగపడుతుంది.

- A) భారతదేశ రాజకీయ పటం
B) భారతదేశ భౌతిక పటం
C) భారతదేశ కాంటూరు రేఖల పటం
(1) A మాత్రమే (2) B మాత్రమే
(3) C మాత్రమే (4) B మరియు C మాత్రమే

POLITICAL SCIENCE

166. రాష్ట్ర గవర్నర్లను ఎవరు నియమిస్తారు?

- | | |
|-------------------|--|
| (1) ప్రధాన మంత్రి | (2) ముఖ్యమంత్రి |
| (3) రాష్ట్రపతి | (4) సుప్రీమ్ కోర్టు ప్రధాన న్యాయమూర్తి |

167. స్వతంత్ర భారతదేశపు మొట్టమొదటి న్యాయశాఖా మంత్రి

- | | |
|----------------------------|--------------------------------|
| (1) డా॥ బి.ఆర్. అంబేద్కర్ | (2) శ్రీమతి విజయలక్ష్మి వండిత్ |
| (3) సర్దార్ వల్లభాయి పటేల్ | (4) సుబాష్ చంద్రబోస్ |

168. భారత రాజ్యాంగం దేశంలో ఎన్నికలను నిర్వహించే బాధ్యతను ఎవరికి అప్పగించింది?

- | | |
|----------------------|-----------------------|
| (1) సుప్రీంకోర్టు | (2) ఎన్నికల సంఘము |
| (3) కేంద్ర ప్రభుత్వం | (4) రాష్ట్ర ప్రభుత్వం |

169. జతపరుచుము

- | | |
|--------------------|---|
| i) సర్వసత్తాక | a) ప్రభుత్వం ఏ ఒక్క సుతానికి ప్రాధాన్యమివ్వదు |
| ii) గణతంత్ర | b) నిర్ణయాలు తీసుకునే అంతిమ అధికారం ప్రజలకు ఉంటుంది |
| iii) సామ్రాజ్యత్వం | c) దేశాధినేతగా ఎన్నికైన వ్యక్తి |
| iv) తౌకిక | d) ప్రజలు ఆస్తుదమ్ములు, ఆక్ర చెల్లెళ్ళ మాదిరి మెలగాలి |
- (1) i - b ii - c iii - d iv - a
 (2) i - a ii - d iii - b iv - c
 (3) i - c ii - b iii - a iv - d
 (4) i - d ii - c iii - b iv - a

170. రాజకీయాలలో మనకు సమానత ఉంటుంది. కానీ సామాజిక, ఆర్థిక జీవితాల్లో అసమానత ఉంటుంది. రాజకీయాల్లో ఒక మనిషి ఒక ఓటు, ఒక ఓటు ఒకే విలువ అన్న సిద్ధాంతాన్ని అనుసరించబోతున్నాము. మన సామాజిక, ఆర్థిక జీవితాలలో మనకున్న సామాజిక, ఆర్థిక భేదం కారణంగా ఒక మనిషి, ఒక విలువ అన్న సూత్రాన్ని అమలుచేయలేం. ఈ వైరుధ్య తీవ్రనాన్ని ఎంత కాలం భరించాలి? సామాజిక, ఆర్థిక జీవితాలలో సమానత్వాన్ని ఎంతకాలం తిరస్కరించాలి? ఈ వైరుధ్యాలు ఎక్కువ కాలం కొనసాగితే మన రాజకీయ ప్రజాస్వామ్యమే ముప్పులో పడుతుంది. ఈ వ్యాఖ్యానం ఎవరు చెప్పినది?

- (1) మహాత్మా గాంధీజీ
- (2) డా॥ బి.ఆర్. అంబేద్కర్
- (3) జవహర్ లాల్ నెహ్రూ
- (4) డా॥ బాబు రాజేంద్రప్రసాద్

171. భారతదేశంలో ప్రవ్యం(మసీ), బ్యాంకుకు సంబంధించిన ఏ చట్టమైనా తయారుచేయునది?

- (1) పార్లమెంట్
- (2) రిజర్వ్ బ్యాంక్ ఆఫ్ ఇండియా
- (3) నిస్సీకల సంఘము
- (4) ప్రపంచ బ్యాంకు

172. ఆంధ్రప్రదేశ్ ప్రభుత్వం వినయభ్రంశంలో ఆంధ్రప్రదేశ్ నీరు, భూమి, చెట్ల రక్షణ చట్టాన్ని చేసింది

- | | |
|----------|----------|
| (1) 1902 | (2) 1985 |
| (3) 1990 | (4) 2002 |

173. భారత రాజ్యాంగ ముసాయిదా కమిటీ అధ్యక్షులు

- (1) డా॥ బి.ఆర్. అంబేద్కర్
- (2) డా॥ బాబు రాజేంద్ర ప్రసాద్
- (3) డా॥ జాకీర్ హుస్సేన్
- (4) డా॥ ఫారుఖ్ ఆబ్దుల్లా

174. ఈ క్రింది వారితో స్త్రీ విద్య, అణగారిన వర్గాలలో పాటు సామాన్యుల విద్య కోసం కృషి చేసినది ఎవరు?

- (1) సావిత్రిబాయి ఫూలే
- (2) పెరియార్ జి.వి. రామస్వామి
- (3) శ్రీనారాయణ గురు
- (4) జ్యోతిరావు గోవిందరావు ఫూలే

175. ఆంధ్రప్రదేశ్లో అత్యంత ప్రసిద్ధి చెందిన గ్రామ దేవత ఎవరు?

- | | |
|------------|-------------|
| (1) సోదమ్మ | (2) మైసమ్మ |
| (3) నంగమ్మ | (4) ఎల్లమ్మ |

ECONOMICS

176. కంకర రాళ్ళు రోడ్డును నిర్మించే పద్ధతిని కనుక్కొన్నవారు.

- | | |
|--------------------------|------------------------|
| (1) బొల్లన్ | (2) జార్జి స్టీఫెన్సన్ |
| (3) జాన్ లెడన్ మెక్ ఆడమ్ | (4) జేమ్స్ వాట్ |

177. కాగితపు తయారీ ప్రక్రియలోని ఏవిధ దశలను పైన వరుస క్రమంలో ఆమర్చండి.

- A) కటింగ్
B) ఒత్తి పెట్టడం, ఆరబెట్టడం, చుట్టడం
C) ముక్కలు చేయడం
D) గుళ్ళును పరచడం
E) కలప గుళ్ళు తయారీ

- | | |
|-------------------|-------------------|
| (1) C, E, D, B, A | (2) A, B, C, D, E |
| (3) C, D, B, E, A | (4) A, E, D, B, C |

178. మౌర్యుల కాలంలో 'పాణా' అనే నాణెం ప్రామాణికంగా ఉండేది. దీనిని దేనితో తయారు చేసారు?

- | | |
|------------|-----------|
| (1) బంగారం | (2) వెండి |
| (3) ఇత్తడి | (4) రాగి |

179. కార్ల ఉత్పత్తిని వేగవంతం చేయడానికి హైస్పీడ్ ప్రవేశపెట్టిన విధానం

- | | |
|----------------------------|-----------------------|
| (1) కంట్రోల్డ్ హార్వెస్టర్ | (2) అసెంబ్లీ లైన్ |
| (3) కార్ల విధానం | (4) ఫ్ల్యాక్ట్ విధానం |

180. భారతదేశం ఔషధాలు తయారుచేయడంలో ప్రపంచ దేశాలలో ఏ స్థానంలో ఉంది?

- | | |
|--------|--------|
| (1) 1వ | (2) 2వ |
| (3) 3వ | (4) 4వ |

□□□□

SPACE FOR ROUGH WORK

ClassResult.in