

SOCIAL STUDIES, Paper - I

(Tamil and English versions)

Parts A and B

Time : 2 hrs. 45 min.]

[Maximum Marks : 40

குறிப்பு :

1. வினாத்தாளைப் படித்திட 15 நிமிடங்களும் விடைகள் எழுதிட 2.30 மணிகளும் ஒதுக்கப்பட்டுள்ளது.
2. **Part-A** வினாக்களுக்கான விடைகளை தனி விடைத்தாளில் எழுத வேண்டும்.
3. மாணாக்கர்கள் **Part-A** வினாத்தாளை அவர்களுடன் எடுத்துச் செல்லலாம்.
4. இந்திய வரைபடம் (Map) மற்றும் **Part-B** வினாத்தாளை, விடைத்தாளுடன் இணைத்து தேர்வு கண்காணிப்பாளரிடம் ஒப்படைக்க வேண்டும்.

Part - A

Time : 2 hours

Marks : 30

SECTION - I

4×1=4

குறிப்பு : (i) நான்கு வினாக்களுக்கு விடையளி.

(ii) ஒவ்வொரு வினாவிற்கும் ஒரு மதிப்பெண்.

1. சுற்றுப்புற சூழல் பாதுகாப்பு குறித்து இரண்டு முழுக்கங்கள் எழுதுக.
2. W.T.O. என்பதன் விரிவாக்கம் எழுதுக.
3. வளர்ச்சி குறித்து இரண்டு நபர்கள் (அல்லது) குழுவின் நபர்கள் முரண்பாடான கருத்துக்களை கொண்டிருக்கின்றனர். இதற்கான ஒரு எடுத்துக்காட்டை தருக.
4. அரேபியரின் வசந்தம் என்றால் என்ன?

21A(A)

B

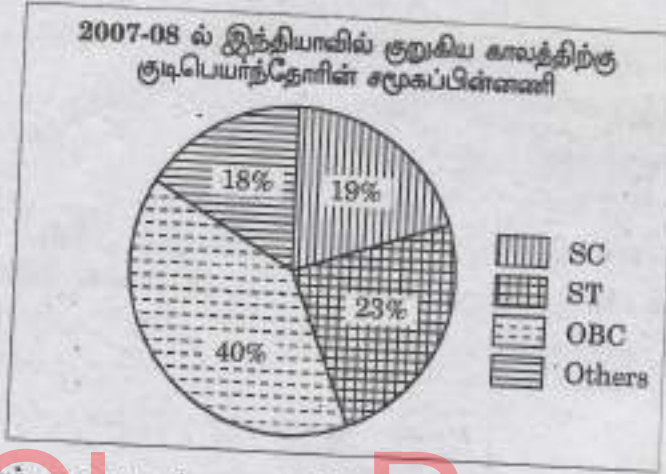
SECTION - II

5×2=10

குறிப்பு : (i) ஐந்து வினாக்களுக்கு விடையளி.

(ii) ஒவ்வொரு வினாவிற்கும் இரண்டு மதிப்பெண்கள்.

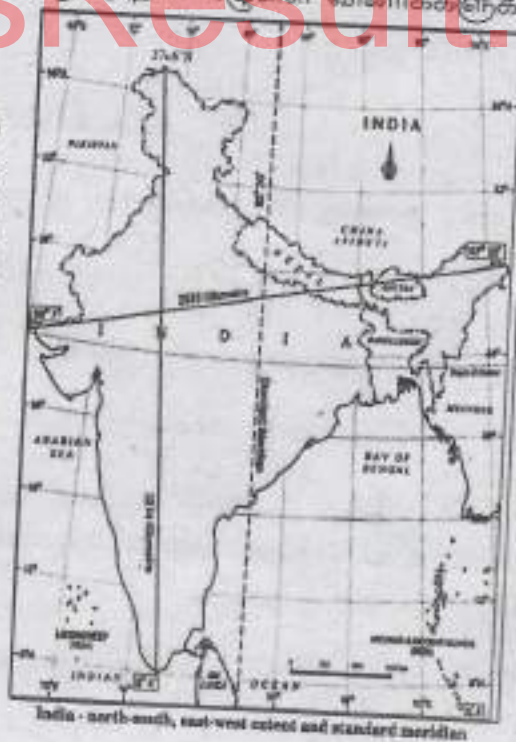
5. சுற்றுப்புறத்தின் மூலாதாரச் செயல் மற்றும் உட்கிரகித்தல் இடையே உள்ள வேறுபாட்டை எழுதுக.
6. தொடர்ந்து வறட்சி நீடித்த ஆண்டுகளிலும், ஹிவாரே பஜாரில் குடிநீர் பற்றாக்குறை ஏற்படவில்லை. இதற்கான காரணங்கள் யாவை?
7. கீழ்காணும் வட்ட வரைபடம் காட்டும் தகவலை பரிசீலித்து கண்டறிந்தவற்றை குறித்து எழுதுக.



8. கீழ்காணும் வரைபடத்தை பரிசீலித்து அதன் கீழுள்ள வினாக்களுக்கு விடையளி.

(a) இந்தியாவின் கிழக்கு மற்றும் மேற்கு விளிம்புகள் இடையே உள்ள தொலைவு எவ்வளவு?

(b) இந்தியாவுடன் எல்லையை பகிர்ந்து கொள்ளும் ஏதேனும் இரண்டு நாடுகளின் பெயர்களை எழுதுக.



9. விரைவான முறையில் தாதுப்பொருட்கள் மற்றும் இதர இயற்கை வளங்களை பிரித்தெடுப்பதால் எவ்வாறு எதிர்கால முன்னேற்ற அம்சங்களை பாதித்திடும். விவரி.

SECTION - III

4×4=16

- குறிப்பு : (i) கீழ்க்காணும் எல்லா வினாக்களுக்கும் விடையளி.
(ii) ஒவ்வொரு வினாவிற்கும் நான்கு மதிப்பெண்கள்.
(iii) ஒவ்வொரு வினாவிற்கும் உள்விருப்பத் தேர்வு முறை உள்ளது.
10. (A) கிழக்கு மற்றும் மேற்கு தொடர்ச்சி மலைகள் இடையே உள்ள வேறுபாடுகளை விவரி.

(அல்லது)

- (B) 'பொது விநியோக முறை மக்களின் உணவு பாதுகாப்பை சிறப்பாக உறுதி செய்யும்.' - இதனை விவரி.
11. (A) கீழ்க்காணும் பத்தியை படித்து, அது குறித்து உன் கருத்தை எழுதுக. உலகமயமாதலின் பயன்கள் சமமற்ற முறையில் பகிர்ந்து அளிக்கப்பட்டுள்ளன. செல்வந்த நுகர்வோர் மற்றும் திறன் மற்றும் கல்வி கற்றோர் மற்றும் பெருஞ்செல்வம் கொண்டோருக்கு பயனளித்தது. தொழில் நுட்ப திறனுடன் கூடிய சில துறைகள் விரிவடைந்தன. மற்றொரு வகையில், ஆயிரக்கணக்கான சிறு உற்பத்தியாளர்கள் மற்றும் தொழிலாளிகள் அவர்களின் வேலை வாய்ப்பு மற்றும் தொழிலாளர்களின் உரிமைகள் சீழிந்து வருவதை கண்டனர். உலகமயமாதலின் சாதகமான மற்றும் பாதுகாமான இரண்டு புறங்களின் தன்மையை புரிந்து கொள்ள வேண்டியது முக்கியமானதாகும்.

(அல்லது)

- (B) ஒழுங்கமைக்கப்பட்ட துறை பெரும்பாலான மக்கள் விரும்பும் பணிகளை வழங்குகிறது. ஆனால், ஒழுங்கமைக்கப்பட்ட துறையில் வேலை வாய்ப்புகள் மிகவும் மெதுவாக வளர்ந்து வருகின்றன. அதன் விளைவாக, மிக குறைவான ஊதியத்தை வழங்கும் ஒழுங்கமைக்கப்படாத துறைகளில் ஈடுபடும் படி அதிக எண்ணிக்கையிலான பணியாளர்கள் வலியுறுத்தப் படுகின்றனர்.
- Q. ஒழுங்கமைக்கப்பட்ட துறை, ஒழுங்கமைக்கப்படாத துறையை காட்டிலும் சிறந்தது என நீ கருதுகிறாயா? உன் கருத்தை எழுதுக.
12. (A) கீழ்க்காணும் பட்டியலை படித்து, அதன் கீழுள்ள வினாக்களுக்கு விடையளி.
இந்தியா மற்றும் அண்டை நாடுகள் குறித்த 2013 ஆண்டிற்கான சில விவரங்கள்

நாடுகள்	தலைசரி வருவாய் (டாலர்களில்)	வாழ்நாள் காலம் (ஆண்டுகளில்)	சராசரி பள்ளிப்படிப்பு ஆண்டுகள்	எதிர்பார்க்கும் பள்ளிப்படிப்பு ஆண்டுகள்	மனித மேம்பாட்டு குறியீடு(HDI) உலக அளவு தரம்
இலங்கை	5170	75.1	9.3	12.7	92
இந்தியா	3285	65.8	4.4	10.7	136
பாகிஸ்தான்	2566	65.7	4.9	7.3	146
மியான்மர்	1817	65.7	3.9	9.4	149
பங்களாதேஷ்	1785	69.2	4.8	8.1	146
நேபாளம்	1137	69.1	3.2	8.9	157

[4]

1. இந்தியாவை காட்டிலும், மனித மேம்பாட்டு குறியீட்டில் முன்னிலை வகிக்கும் நாடு எது?
2. மனித மேம்பாட்டு குறியீட்டை உருவாக்குவதில் பரிசீலிக்கப்படும் அம்சங்களை குறிப்பிடு.
3. மிகவும் குறைவான தலைசரி வருவாயை கொண்ட நாட்டை குறிப்பிடு.
4. இந்தியாவின் மனித மேம்பாட்டு குறியீட்டை மேம்படுத்த இரண்டு அறிவுரைகள் தருக.

(அல்லது)

- (B) கீழ்க்காணும் பட்டியலிலுள்ள தகவலை பரிசீலித்து, உள்ளுடைய பரிசீலனையை செவ்வக வரைபடத்தினை வரைந்து காட்டுக.

இந்திய மக்கள் தொகை : பாலின விகிதம் 1951-2011

வரிசை எண்	ஆண்டு	ஒவ்வொரு 1000 ஆண்களுக்கு உள்ள பெண்களின் எண்ணிக்கை
1.	1951	946
2.	1961	941
3.	1971	930
4.	1981	934
5.	1991	929
6.	2001	933
7.	2011	943

13. கீழ்க்காணும் இடங்களை இந்திய புறவரி படத்தில் குறித்திடு.

- (A) (1) எவரெஸ்ட் சிகரம்
(2) மணிப்பூர்
(3) மாள்வா பீடபூமி
(4) இலட்சத்தீவுகள்

(அல்லது)

- (B) (1) தார் பாலைவனத்தில் பாயும் நதி.
(2) தக்காண பீடபூமியின் தெற்கு எல்லை.
(3) மிகவும் குறைவான மக்களடர்த்தி கொண்ட மாநிலம்.
(4) இந்தியாவை இரண்டு சம பாகங்களாக பிரித்திடும் அட்சக் கோடு.

SOCIAL STUDIES, Paper - I*(English version)***Parts A and B****Time : 2 hrs. 45 min.]****[Maximum Marks : 40****Instructions :**

1. 15 minutes are allocated to read the question paper and 2 hrs. 30 min. are allocated to write answers.
2. **Part-A** must be answered in a separate answer sheet.
3. Students can take **Part-A** (Question Paper) with them.
4. Map of (India) and **Part-B** (Bit Paper) should be attached to the answer sheet and should be handed over to the invigilator.

Part - A**Time : 2 hours****Marks : 30****SECTION - I****4×1=4**

NOTE : (i) Write answers to the **FOUR** questions.
(ii) Each question carries **ONE** mark.

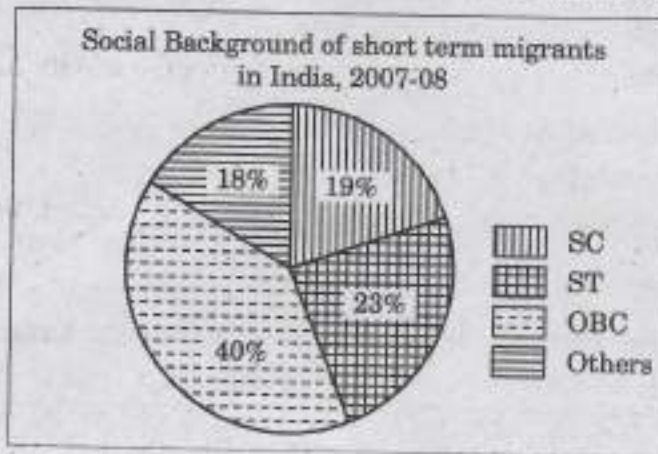
1. Write any two slogans on the environmental protection.
2. Expand WTO.
3. In the context of development, two persons or groups of persons may seek things which are conflicting. Give one example for this.
4. What is Arab Spring ?

SECTION - II

5×2=10

NOTE : (i) Write answers to the **FIVE** questions.
(ii) Each question carries **TWO** marks.

5. Differentiate between environment's 'Source function' and 'Sink function'.
6. Even in years of continuous drought, there was no drinking water shortage in Hiware Bazar. What are the reasons for this ?
7. Study the information given below and write your observations.



8. Observe the map given below and answer the following questions.

- (a) What is the distance between the eastern and western most points of India ?
- (b) Name any two countries that share their boundaries with India.



India - north-south, east-west extent and standard meridian

9. How would the rapid extraction of natural resources effect the future development prospects ? Explain.

SECTION - III

4×4=16

- NOTE :** (i) Answer **all** the following questions.
(ii) Each question carries **FOUR** marks.
(iii) Each question has internal choice.

10. (A) Explain the differences between the Eastern Ghats and the Western Ghats.

OR

- (B) "Public Distribution System can ensure better food security for people." Explain.

11. (A) Read the paragraph given below and comment.

The benefits of globalisation have been unevenly distributed. It has benefited well-off consumers and also producers with skill, education and huge wealth. Certain services, enabled with technology, have expanded. On the other hand, thousands of small producers and workers have seen their employment and workers' rights erode. It is important to understand the two-sided nature of globalisation.

OR

- (B) The organised sector offers jobs that are the most sought-after. But the employment opportunities in the organised sector have been expanding very slowly. As a result, a large number of workers are forced to enter the unorganised sector jobs, which pay a very low salary.

- Q. Do you think organised sector is better than unorganised sector ? Give your opinion.

12. (A) Observe the table and answer the following questions.

Some data regarding India and its neighbours for 2013

Country	Per capita Income in \$	Life Expectancy at birth (Years)	Average years of schooling	Expected years of schooling	Human Development Index (HDI) rank in the world
Sri Lanka	5170	75.1	9.3	12.7	92
India	3285	65.8	4.4	10.7	136
Pakistan	2566	65.7	4.9	7.3	146
Myanmar	1817	65.7	3.9	9.4	149
Bangladesh	1785	69.2	4.8	8.1	146
Nepal	1137	69.1	3.2	8.9	157

[8]

1. Which country stands ahead of India in all aspects in HDI ?
2. Mention the aspects that are considered in making Human Development Index.
3. Name the country that has the lowest per capita income.
4. Give two suggestions for the improvement of the rank of India in HDI.

OR

(B) Plot the below information on a bar-graph. Write your observation.

Table : India Population : Sex Ratio 1951-2011

SL.No.	Year	No. of females for 1000 males
1.	1951	946
2.	1961	941
3.	1971	930
4.	1981	934
5.	1991	929
6.	2001	933
7.	2011	948

13. Locate the following in the given outline map of India :

- (A) (1) The Mount Everest
(2) Manipur
(3) The Malwa Plateau
(4) Lakshadweep

OR

- (B) (1) The river which flows in Thar Desert.
(2) The southern boundary of the Deccan plateau.
(3) The state which has the lowest population density.
(4) The latitude that divides India into two halves.

Attach MAP to the main answer book of Part A



ClassResult.in

This Question Paper contains 8 Printed Pages.

21A(B)

SOCIAL STUDIES, Paper - I

(Tamil and English versions)

Parts A and B

Time : 2 hrs. 45 min.]

[Maximum Marks : 40

குறிப்பு : Part-B க்குரிய விடைகளை வினாத்தாளிலேயே எழுதி,
Part-A விடைத்தாளுடன் இணைத்துத் தருக.

Part - B

Time : 30 minutes

Marks : 10

SECTION - IV

20×½=10 marks

குறிப்பு :

1. ஒவ்வொரு வினாவிற்கும் எதிரே தரப்பட்டுள்ள அடைப்புகளில், சரியான விடையின் குறியை CAPITAL LETTERS ல் (A, B, C, D) எழுதுக.
2. ஒவ்வொரு வினாவிற்கும் ½ மதிப்பெண்.
3. எல்லா வினாக்களுக்கும் விடையளி.
4. வினாக்களுக்கான விடைகளை, வினாத்தாளிலேயே எழுதுக.
5. எழுதியதின் மீது எழுதப்பட்ட, அடித்து எழுதப்பட்ட விடைகளுக்கு மதிப்பெண் தரப்படாது.

14. 'அமைதியான வசந்தம்' என்னும் நூலின் ஆசிரியர் []
- (A) ரேச்சல் கார்சன் (B) அருந்ததி ராய்
(C) மேதா பட்கர் (D) எவருமில்லை

15. உயிர் வாழும் உரிமையை வழங்கும் சட்டப்பிரிவு []
- (A) Article 21 (B) Article 22
(C) Article 23 (D) Article 24

21A(B)

B

16. கிருஷ்ணா நதியின் பிறப்பிடம் []
 (A) திரியம்பக் (B) மகாபலேஷ்கர்
 (C) அமர்கண்டக் (D) முல்தை
17. ஒரு குறிப்பிட்ட ஆண்டில், ஒரு நாட்டில் உற்பத்தி செய்யப்பட்ட பொருட்கள் மற்றும் சேவைகளின் மொத்த மதிப்பு []
 (A) மொத்த உள்நாட்டு உற்பத்தி.
 (B) நிகர உள்நாட்டு உற்பத்தி.
 (C) மொத்த தேசிய உற்பத்தி.
 (D) நிகர தேசிய உற்பத்தி.
18. தென்-மேற்கு பருவக்காற்றால், யிகவும் குறைவான மழைப்பொழிவை பெறும் கடலோரப் பகுதி. []
 (A) சர்க்கார் கடற்கரை (B) கோரமண்டல் கடற்கரை
 (C) உத்கல் கடற்கரை (D) களரா கடற்கரை
19. இந்தியாவில் முதலாவது மக்கள் தொகை கணக்கெடுப்பு நடத்தப்பட்ட ஆண்டு []
 (A) 1872 (B) 1772
 (C) 1820 (D) 1773
20. இந்தியாவில் தாராளமயமாக்கல் கொள்கை தொடங்கிய ஆண்டு ... []
 (A) 1991 (B) 2000
 (C) 1981 (D) 2001
21. ஆதிகால மனிதர்கள் பயன்படுத்திய பிம்பெத்கா என்னும் மலைகுகை இருப்பிடம், இந்த மாநிலத்தில் அமைந்துள்ளது. []
 (A) மத்திய பிரதேசம் (B) கர்நாடகா
 (C) கேரளா (D) மகாராஷ்டிரா

22. மதிய உணவு திட்டத்தை பள்ளிக் கூடங்களில் முதன் முதலில் நடைமுறைப்படுத்திய மாநிலம் ... []
 (A) ஆந்திரப் பிரதேசம் (B) கர்நாடகா
 (C) தமிழ்நாடு (D) கேரளா
23. கீழ்க்காணும் கூற்றுக்களை கவனமாய் படித்திடு. []
 (1) அங்கக விவசாய முறைக்கு முழுவதுமாக மாறிட திட்டமிட்ட, முதலாவது இந்திய மாநிலம் சிக்கிம்.
 (2) உத்தராகண்ட் மாநிலமும், நூறு சதவீதம் அங்கக விவசாய முறையினை அதன் வழியிலேயே பின்பற்றி வருகிறது.
 மேற்காணும் வாக்கியங்களில், எது / எவை உண்மை?
 (A) (1) மட்டும் (B) (2) மட்டும்
 (C) (1) மற்றும் (2) (D) இரண்டில் எதுவுமில்லை
24. தேசிய ஊட்டச்சத்து நிறுவனம் இங்கு அமைந்துள்ளது []
 (A) சென்னை (B) ஐதராபாத்
 (C) மும்பை (D) டில்லி
25. குளிர்கால பயிர்ப்பருவத்தை இவ்வாறு அழைப்பர். []
 (A) களிப் (B) ரபி
 (C) ஜயத் (D) எதுவுமில்லை
26. பங்களாதேஷில் பத்மா என்று அழைக்கப்படும் நதி []
 (A) கங்கை நதி (B) சிந்து நதி
 (C) பிரம்மபுத்திரா நதி (D) சட்லெஜ் நதி
27. கீழ்க்கண்டவற்றில் எது நீர் பாதுகாப்புக்கு உதவிடும்? []
 (A) அனுமதியின்றி ஆழ்துளை கிணறுகள் நீர் பாசனத்திற்காக தோண்டக் கூடாது.
 (B) அதிகநீர் தேவைப்படும் கரும்பு போன்ற பயிர்களை விளைவிக்கக் கூடாது.
 (C) குடிநீர் மற்றும் பாசன நீரை விவேகத்துடன் பயன்படுத்துதல்.
 (D) மேற்கண்டவை அனைத்தும்.

28. இந்தியாவின் சேவைத்துறையை குறித்து கூறும் கீழ்க்காணும் கூற்றுக்களில் எது உண்மை? []
- (A) சேவைத்துறை வளரும் போது, சேவைத்துறையைச் சேர்ந்த எல்லா செயல்பாடுகளும் சமமாக வளருகின்றன.
- (B) சேவைத்துறை வளரும் போது, சேவைத்துறையைச் சேர்ந்த எல்லா செயல்பாடுகளும் சமமாக வளர்வதில்லை.
- (C) சேவைத்துறை அதிகமான கல்வி கற்றோருக்கு மட்டும் வேலைவாய்ப்பை தருகிறது.
- (D) மொத்த உள்நாட்டு உற்பத்தியில், துறை ரீதியான பங்கீட்டில், சேவைத்துறையின் பங்கு மிக குறைவு.
29. குலு மற்றும் காங்கரா பள்ளத்தாக்குகள் இம்மலைத் தொடரில் அமைந்துள்ளன. []
- (A) பெரும் இமய மலைத்தொடர்.
- (B) சிறிய இமய மலைத்தொடர்.
- (C) சிவாலிக்குகள்.
- (D) சஹாயத்திரி மலைகள்
30. மாட்டாக் டிம்பெப் பள்ளத்தாக்கு இங்கு அமைந்துள்ளது. []
- (A) அர்ணாச்சல பிரதேசம் (B) சிக்கிம்
- (C) மேகாலயா (D) ஆந்திரப் பிரதேசம்
31. பள்ளிக் கல்வி புரட்சி நிகழ்ந்த மாநிலம் []
- (A) அசோம் (B) ஹிமாச்சல பிரதேசம்
- (C) சிக்கம் (D) தமிழ்நாடு
32. கீழ்க்காணும் கூற்றுக்களை பரிசீலித்திடு. []
- (1) உலக வெப்பமயமாதலுக்கான காரணங்களில் மனித நடவடிக்கைகளும் ஒன்று.
- (2) காலநிலை மாற்றம் உலக அளவில் நிகழ்கிறது.
- மேற்காணும் வாக்கியங்களில், எது / எவை உண்மை?
- (A) (1) மட்டும் (B) (2) மட்டும்
- (C) (1) மற்றும் (2) (D) இரண்டில் எதுவுமில்லை
33. கீழ்க்கண்டவற்றுள் எது நிரந்தர மூலதனம் அல்ல? []
- (A) கருவிகள் (B) இயந்திரங்கள்
- (C) கட்டிடங்கள் (D) சம்பளங்கள் & கூலிகள்

21 (B)

SOCIAL STUDIES, Paper - I*(English version)***Parts A and B****Time : 2 hrs. 45 min.]****[Maximum Marks : 40****Instruction :** Write the answers to the questions in this **Part-B** on the Question paper itself and attach it to the answer book of **Part-A**.**Part - B****Time : 30 minutes****Marks : 10****SECTION - IV****20 × ½ = 10 marks****NOTE :**

1. Write the CAPITAL LETTERS (A, B, C, D) showing the correct answer for the following questions in the brackets provided against each question.
2. Each question carries ½ mark.
3. Answer **all** the questions.
4. Answers are to be written on the question paper only.
5. Marks will **not** be awarded in any case of over-writing, rewriting or erased answers.

14. The author of the book "Silent Spring" : []

(A) Rachel Carson

(B) Arundhati Roy

(C) Medha Patkar

(D) None of the above

15. Which article provides the Right to Life ? []

(A) Article 21

(B) Article 22

(C) Article 23

(D) Article 24

21 (B)

B

[6]

16. The origin of the river Krishna. []
(A) Triambak (B) Mahabaleswar
(C) Amarkantak (D) Multai
17. Total value of goods and services produced in a country during a particular year : []
(A) GDP (B) NDP
(C) GNP (D) NNP
18. Which coast receives low rainfall during the south-west monsoon ? []
(A) Circar coast (B) Coramandal
(C) Utkal coast (D) Canara coast
19. The first Census was taken in India in []
(A) 1872 (B) 1772
(C) 1820 (D) 1773
20. Liberalisation in India was started around []
(A) 1991 (B) 2000
(C) 1981 (D) 2001
21. The Bhimbedka Rockshelters, used by the early humans, were situated in this state. []
(A) Madhya Pradesh (B) Karnataka
(C) Kerala (D) Maharashtra
22. The first state that implemented the Mid-day Meal Scheme : []
(A) Andhra Pradesh (B) Karnataka
(C) Tamil Nadu (D) Kerala

21 (B)

B

23. Consider the following statements. []

- (1) Sikkim is the first state in India that planned to shift completely to organic farming.
 (2) Uttarakhand too is following the same path of being 100% organic state.

Which of the above statements is / are True ?

- (A) (1) only (B) (2) only
 (C) Both (1) & (2) (D) None of the two.

24. The National Institute of Nutrition is situated at []

- (A) Chennai (B) Hyderabad
 (C) Mumbai (D) Delhi

25. The winter crop season is called []

- (A) Kharif (B) Rabi
 (C) Ziad (D) None of the above.

26. The river that is called as 'Padma' in Bangladesh : []

- (A) The Ganga (B) The Indus
 (C) The Brahmaputra (D) The Sutlej

27. Which of the following helps to water conservation ? []

- (A) Borewells for irrigation should not be laid without permission.
 (B) Much water consuming crops like sugarcane should not be grown.
 (C) Wise usage of drinking and irrigated water.
 (D) All the above.

28. Which of the following statements is True in the context of service sector in India ? []

- (A) While service sector has grown, all service sector activities are also growing equally well.
 (B) While service sector has grown, all service sector activities are not growing equally well.
 (C) Service sector provides employment only for highly educated people.
 (D) The sectoral share of service sector in G.D.P. is very low.

21 (B)

B

29. Kulu and Kangra valleys are present in these ranges : []
(A) The Greater Himalayas.
(B) The Lesser Himalayas.
(C) The Shivaliks.
(D) The Sahyadri.
30. Mawkdok Dympep valley is situated in []
(A) Arunachal Pradesh (B) Sikkim
(C) Meghalaya (D) Andhra Pradesh
31. The state where schooling revolution took place. []
(A) Asom (B) Himachal Pradesh
(C) Sikkim (D) Tamilnadu
32. Consider the following statements. []
(1) Human activities are one of the causes of the global warming.
(2) Climate change happens at a global level.
Which of the above statements is / are true ?
(A) (1) only.
(B) (2) only.
(C) Both (1) & (2).
(D) None of the two.
33. Which of the following is not physical capital ? []
(A) Tools
(B) Machines
(C) Buildings
(D) Salaries & Wages
-